

แบบฝึกทักษะที่ 1


คำชี้แจง : ให้นักเรียนดูภาพแล้วพิจารณาว่าภาพใดคือ ภาพ 2 มิติ และภาพใดคือภาพ 3 มิติ
โดยกำหนดให้ภาพ 2 มิติ ตอบ ก และ ภาพ 3 มิติ ตอบ ข ลงในช่องว่าง

1.




-

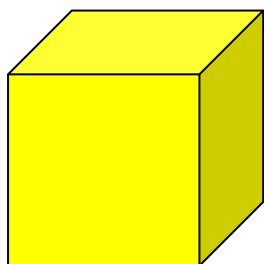
2.




3.



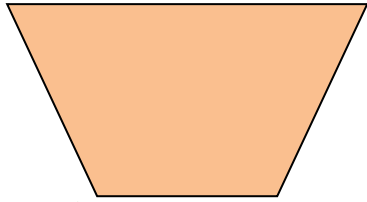
4.



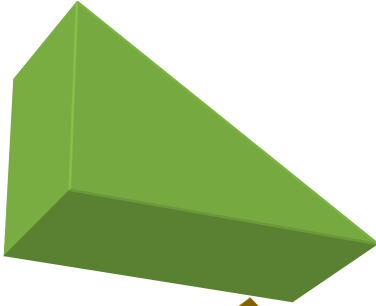
5.




6.




7.



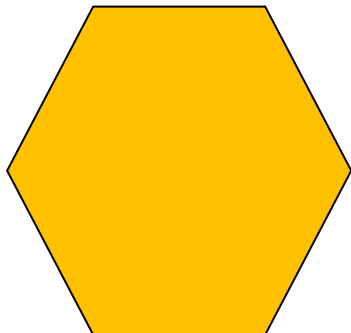
8.



9.

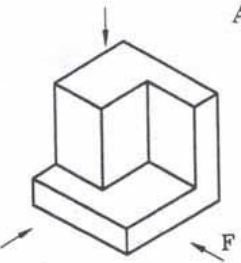
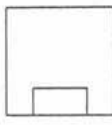
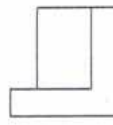
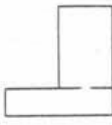
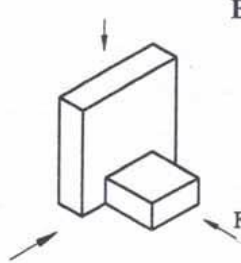

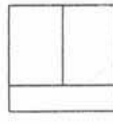

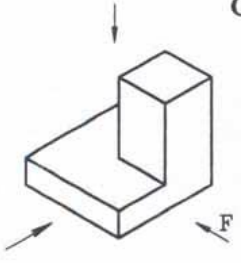
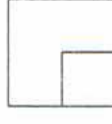
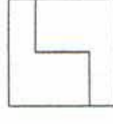
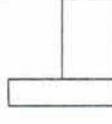
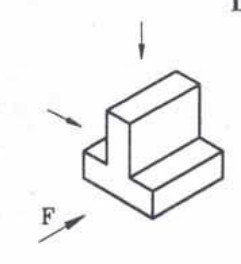
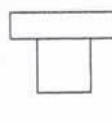

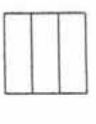


10.



แบบฝึกทักษะที่ 2

คำชี้แจง : จงเลือกภาพฉาย ด้านหน้า ด้านข้าง และด้านบนให้ตรงกับภาพ 3 มิติ แล้วนำหมายเลข
จากภาพฉายใส่ลงในตาราง

<p>A</p> 	 <p>1</p>	 <p>2</p>	 <p>3</p>
<p>B</p> 	 <p>4</p>	 <p>5</p>	 <p>6</p>
<p>C</p> 	 <p>7</p>	 <p>8</p>	 <p>9</p>
<p>D</p> 	 <p>10</p>	 <p>11</p>	 <p>12</p>

	A	B	C	D
ด้านหน้า				
ด้านข้าง				
ด้านบน				

แบบฝึกทักษะที่ 3

คำชี้แจง : จงตอบคำถามต่อไปนี้

1. ภาพฉาย หมายถึงอะไร

2. ภาพฉายแบ่งได้กี่แบบ

3. ภาพฉายมุมที่ 1 ภาพด้านบนวางไว้ตำแหน่งใด

4. ภาพฉายมุมที่ 3 ภาพด้านบนวางไว้ตำแหน่งใด

5. Front View หมายถึง _____
6. Top View หมายถึง _____
7. Side View หมายถึง _____
8. ภาพ 2 มิติ หมายถึง _____
9. ภาพ 3 มิติ หมายถึง _____
10. ด้านบนกับด้านหน้า สัมพันธ์กันในเรื่องใด
